
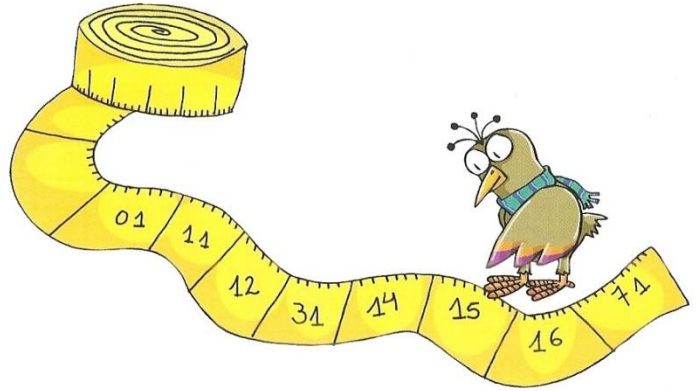


1 **COMPLETÁ** LOS NÚMEROS QUE LLEVA CADA ANIMALITO.



2 **TACHÁ** LOS NÚMEROS QUE ESTÁN MAL UBICADOS O DADOS VUELTA. LOS QUE SEÑALA PAJARITO ESTÁN BIEN.



MANU Y SU PAPÁ JUEGAN A TIRAR LOS DADOS Y VER QUIÉN SUMA MÁS PUNTOS.

1 **ESCRIBÍ** CUÁNTOS PUNTOS SUMÓ CADA UNO. **RODEÁ** CON ● EL NOMBRE DEL QUE GANÓ CADA JUGADA Y CON ● SI EMPATARON.

	MANUEL	JULIO
SUMA		

	MANUEL	JULIO
SUMA		

	MANUEL	JULIO
SUMA		

	MANUEL	JULIO
SUMA		

	MANUEL	JULIO
SUMA		

	MANUEL	JULIO
SUMA		

1 LA MAESTRA DE DIBUJO TRAJÓ 3 CAJAS DE TÉMPERAS PARA TODOS LOS CHICOS DE PRIMERO.



5 TÉMPERAS



5 TÉMPERAS




5 TÉMPERAS

¿CUÁNTAS TÉMPERAS HAY EN TOTAL PARA COMPARTIR?



2 JULIETA AGARRÓ 3 CHUPETINES DE SU CASA PARA LLEVAR A LA ESCUELA.




12 CHUPETINES

¿CUÁNTOS CHUPETINES QUEDARON EN LA CAJA?



3 ¿ALCANZAN LOS OVILLOS PARA TODOS LOS GATITOS? **CONTALOS Y RODEÁ** LA RESPUESTA CORRECTA.



SÍ NO

1 **ESCRIBÍ** LOS NÚMEROS QUE BORRÓ PAJARITO CON SUS HUELLAS.






	1	2	3	4	5	6	7	!	9
10	11	12	13	14	!	16	17	18	19
20	21	22	!	24	25	!	27	28	29
!	31	32	33	34	35	36	37	38	39
40	41	42	43	44	45	!	47	48	49
50	!	52	53	54	55	56	57	58	!
60	61	62	63	!	65	66	67	68	69
70	71	72	73	74	75	76	77	!	79
80	81	!	83	84	85	86	!	88	89
90	91	92	93	94	95	96	97	98	99
100									

2 AHORA **COMPLETÁ** SOLAMENTE LOS NÚMEROS QUE ESTÁN REMARCADOS.


	1	2	3	4	5	6	7	8	9
10			!						
20					!				!
30		!							
40							!	!	
50	!			!					
60	!			!					
70						!			
80					!		!		
90								!	
100									



1 **ESCRIBÍ** EL ANTERIOR Y EL SIGUIENTE EN LOS VAGONES DE LOS TRENCITOS.



2 **NUMERÁ** LOS PATITOS QUE SIGUEN A LA SEÑORA PATA, DEL MÁS GRANDE AL MÁS CHICO. **MIRÁ** EL EJEMPLO.



1 **CON** TUS BILLETES Y MONEDAS, **ARMÁ** LO QUE SE NECESITA PARA COMPRAR CADA JUGUETE. DESPUÉS, **DIBUJALO** ACÁ.



PELUCHE \$31







PELOTA \$19



DAMAS CHINAS \$28



AUTO \$25



1 PAJARITO PASÓ POR ESTE CUADRO DE NÚMEROS.

COMPLETÁ LOS QUE SE VOLARON:

- EL NÚMERO 77.
- LOS NÚMEROS QUE ESTÁN ENTRE EL 80 Y EL 89.
- EL NÚMERO QUE VA JUSTO DEBAJO DEL 64.
- EL NÚMERO QUE VA JUSTO ENCIMA DEL 83.

60	61	62	63	64	65	66	67	68	69
70	71	72			75	76		78	79
80									89
90	91	92	93	94	95	96	97	98	99

2 AGREGÁ 2 CUENTAS EN CADA NUBE, SEGÚN LO QUE DICE CADA ARCO IRIS.

SUMAS QUE DAN 10

$$3 + 7 = 10$$

SUMAR 10

$$28 + 10 = 38$$

RESTAR 10

$$43 - 10 = 32$$

SUMA DE IGUALES

$$7 + 7 = 14$$

1 RESOLVÉ ESTOS PROBLEMAS Y ESCRIBÍ LAS RESPUESTAS DE CADA UNO.

PROBLEMA 1

A MALENA LE REGALARON UNA BOLSA CON 10 MONEDAS DE CHOCOLATE Y YA COMIÓ 7. ¿CUÁNTAS LE QUEDAN?



PROBLEMA 2

NICO COMIÓ 4 NARANJAS Y 5 MANZANAS. ¿CUÁNTAS FRUTAS COMIÓ?



PROBLEMA 3

MANUEL TIENE QUE PINTAR 12 CUBOS DE COLORES PARA PLÁSTICA. YA PINTÓ 10. ¿CUÁNTOS LE FALTA PINTAR?



PROBLEMA 4

SANTI TIENE 7 GLOBOS. ¿CUÁNTOS LE FALTAN PARA TENER 10?



1 RESOLVÉ ESTOS PROBLEMAS Y ANOTÁ LAS CUENTAS QUE HICISTE.

PROBLEMA 1

MARIELA TIENE 10 LÁPICES DE COLORES. HOY LE COMPRARON 5. ¿CUÁNTOS TIENE AHORA?



PROBLEMA 2

EL MAESTRO LLEVÓ 20 VASOS DESCARTABLES AL CAMPAMENTO. SI YA PRESTÓ 10, ¿CUÁNTOS VASOS LE QUEDAN?

PROBLEMA 3

LA MAMÁ LE ESTÁ ENSEÑANDO A NANCY A HACER BARQUITOS DE PAPEL. NANCY HIZO 20 Y SU MAMÁ 30. ¿CUÁNTOS TIENEN?

PROBLEMA 4

FLORENCIA QUIERE JUNTAR 15 BOTELLAS DE DISTINTOS COLORES Y TAMAÑOS. YA TIENE 10, ¿CUÁNTAS LE FALTAN?

1 COMPLETÁ LAS MANCHITAS DE LAS JIRAFAS CON LOS NÚMEROS QUE SIGUEN EN CADA ESCALA.

DE 2 EN 2

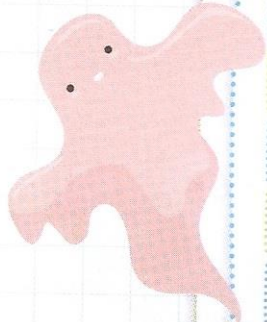
DE 5 EN 5

DE 10 EN 10

EL CASTILLO EMBRUJADO



1 EN ESTE CASTILLO VIVEN MUCHOS FANTASMAS TRAVIESOS Y CAMBIARON LOS NÚMEROS DE LUGAR. **DESCUBRÍLOS Y PINTALOS.**



0	1	2	3	5	4	6	7	8	9
10	11	12	13	14	15	16	17	81	19
20	21	22	23	24	25	26	27	28	29
30	31	32	33	43	35	36	37	38	39
40	41	42	43	44	45	47	45	48	49
05	51	52	53	54	55	56	57	58	59
60	61	62	63	64	65	66	76	68	69
70	71	72	73	74	75	76	77	78	79
80	18	82	83	84	85	86	87	88	89
90	91	92	93	49	95	96	97	98	99



2 **OBSERVÁ** EL CASTILLO DE NÚMEROS Y **ESCRIBÍ** LA RESPUESTA DE CADA ACERTIJO.

ESTÁ EN LA FILA DEL 20 Y TERMINA EN 8.

ES MAYOR QUE 10 Y MENOR QUE 15. TERMINA EN 3.

ESTÁ ENTRE EL 40 Y EL 45 Y ESTÁ EN LA COLUMNA DEL 3.

ES EL NÚMERO MÁS GRANDE TERMINADO EN 0.

CUADERNILLO DE ACTIVIDADES DE REFUERZO Matemática

1^{er} año EPB

Colegio Nuestra Señora de la Misericordia



Alumno/a: _____